

Cette **fiche de tests** vise à faire le point sur ce que tu sais déjà ou pas encore faire, **parmi les compétences de CE2**.
 Si tu n'as jamais appris à faire un exercice, coche la case . Si tu as appris à le faire, mais que tu as oublié, coche la case .

1 Écris l'alphabet.

| | | | | | |
|--|--|--|--|--|--|
| | | | | | |
| | | | | | |
| | | | | | |
| | | | | | |
| | | | | | |

pas appris oublié

2 Classe ces mots dans l'ordre alphabétique : *gingembre – cummin – poivre – cardamome – cannelle*.

①

②

③

④

⑤

pas appris oublié

3 Donne un synonyme des mots suivants.

* habitation :

* rigoler :

* aliment :

* rapidement :

* idiot :

pas appris oublié

4 Donne un contraire des mots suivants.

* acheter :

* rapidement :

* sortir :

* méchanceté :

* idiot :

pas appris oublié

5 Complète avec le bon homonyme.

♦ Dimanche, nous irons à la Ma prépare un bon gâteau.

♦ Ma de chaussures est dehors. Mon est mécanicien.

pas appris oublié

6 Ecris la signification de chaque abréviation:

n. :

Adj. :

V. :

Adv. :

pas appris oublié

7 Trouve 3 mots de la même famille de « lent »:

①

②

③

pas appris oublié

8 Transforme la phrase affirmative en phrase négative.

☛ Mon frère s'est fait mal.

.....

.....

☛ Je suis toujours malade.

.....

.....

pas appris oublié

9 Dans les phrases suivantes, donne l'infinitif du verbe souligné.

☛ Nous voyons les cyclistes.
Verbe à l'infinitif :

☛ Il veut une glace.
Verbe à l'infinitif :

☛ Vous avez mangé ensemble?
Verbe à l'infinitif :

pas appris oublié

10 Dans les phrases suivantes, souligne le sujet en vert.

☛ Mon frère s'est fait mal.

☛ Demain, je range ma chambre.

☛ Tiens, il pleut !

☛ Nous sommes en retard.

☛ La radio fait trop de bruit.

pas appris oublié

11 Dans les phrases suivantes, souligne le verbe en rouge.

☛ Le cheval court dans le pré.

☛ L'orage gronde.

☛ Regarde ce joli chien !

☛ Dépêchez-vous !

☛ Il fait trop chaud !

pas appris oublié

12 Dans les phrases suivantes, souligne les noms.

☛ Le petit canard deviendra grand.

☛ Mes amis sont arrivés.

☛ Anne répare son jouet.

☛ Nous écrivons à notre professeur.

☛ Un manchot est un oiseau.

pas appris oublié

13 Dans les phrases suivantes, souligne les déterminants.

☛ Le petit canard deviendra grand.

☛ Mes amis sont arrivés.

☛ Anne répare son jouet.

☛ Nous écrivons à notre professeur.

☛ Un manchot est un oiseau.

pas appris oublié

14 Dans les phrases suivantes, souligne le COD du verbe.

☛ Nathalie mange une tarte.

☛ Chaque matin, je prends le train.

☛ Le chasseur rappelle son chien.

pas appris oublié

15 Indique pour chaque phrase le temps : **passé, présent ou futur**.

Au printemps, les abeilles butineront.
.....

L'été dernier, nous nous promenions dans la montagne.

Les oiseaux quittent la cage.

pas appris oublié

16 Complète avec le verbe indiqué au **présent** de l'indicatif.

* Je (*manger*)

* Tu (*aller*)

* Elle (*sourire*)

* Vous (*agir*)

* ils (*venir*)

pas appris oublié

17 Complète avec le verbe indiqué au **futur** de l'indicatif.

* Je (*manger*)

* Nous (*aller*)

* Elle (*sourire*)

* Vous (*agir*)

* ils (*venir*)

pas appris oublié

18 Conjugue le verbe **écrire** à l'**imparfait** de l'indicatif.

☛

☛

☛

☛

☛

pas appris oublié

19 Complète avec le verbe indiqué au **passé composé** de l'indicatif.

* J' (*chanter*)

* Nous (*rire*)

* Elle (*finir*)

* Vous (*dire*)

* ils (*prendre*)

pas appris oublié

20 Entoure la bonne réponse.

A peine levé, l'écureuil *se frottent* / *se frotte* le ventre.

Les écureuils *déjeune* / *déjeunent* de glands puis *sautent* / *saute* d'arbre en arbre.

Les *indiens* / *L'indien* admirent les tigres.

Le *saumon* / *Les saumons* nage dans les rivières

pas appris oublié

Cette **fiche de tests** vise à faire le point sur ce que tu sais déjà ou pas encore faire, **parmi les compétences de CE2**.
 Si tu n'as jamais appris à faire un exercice, coche la case . Si tu as appris à le faire, mais que tu as oublié, coche la case .

1 Ecris en lettres:

76 :
 91 :
 182 :

 1 356 :

 925 000 :

pas appris oublié

2 Ecris en chiffres :

Quatre - vingt - douze:.....
 Cent - soixante - neuf :

 Mille - neuf - cent - quarante:

 Deux - cent - cinquante - quatre -
 mille - huit - cent - soixante - trois:

pas appris oublié

3 Indique le signe qui convient :
 <, > ou =

76..... 67
 25.....125
 530 320530 230
 15+15.....8+22
 35 325.....53 352

pas appris oublié

4 Range ces nombres dans l'ordre croissant:
 25 - 325 - 52 - 35 326 - 65

.....

pas appris oublié

5 Encadre ces nombres par le nombre juste avant et le nombre juste après.

..... < 50 <

..... < 200 <

..... < 499 <

..... < 240 000 <

pas appris oublié

6 Écris la moitié de chaque nombre.

* 8 → * 20 →
 * 14 → * 48 →
 * 70 → * 50 →
 * 94 → * 254 →
 * 702 → * 930 →

pas appris oublié

7 Calcule de tête :

* 12 + 5 =
 * 47 + 25 =
 * 52 + 9 =
 * 44 + 15 =
 * 183 + 5 =

pas appris oublié

8 Calcule de tête :

* 12 - 5 =
 * 47 - 25 =
 * 52 - 9 =
 * 44 - 15 =
 * 183 - 5 =

pas appris oublié

9 Calcule de tête :

* 3 × 4 =
 * 6 × 3 =
 * 9 × 6 =
 * 7 × 8 =
 * 9 × 8 =

pas appris oublié

10 Calcule :

$$\begin{array}{r} 43 \\ + 25 \\ \hline \end{array}$$

$$\begin{array}{r} 86 \\ + 759 \\ \hline \end{array}$$

pas appris oublié

11 Calcule :

$$\begin{array}{r} 76 \\ - 53 \\ \hline \end{array}$$

$$\begin{array}{r} 231 \\ - 184 \\ \hline \end{array}$$

pas appris oublié

12 Calcule :

$$\begin{array}{r} 428 \\ \times 3 \\ \hline \end{array}$$

$$\begin{array}{r} 486 \\ \times 25 \\ \hline \end{array}$$

pas appris oublié

13 Pour les lots de la kermesse, Mme Seguin achète 134 balles, 78 porte-clefs et 254 pistolets à eau. *Combien de lots Mme Seguin achète-t-elle ?*

Elle achète lots.

pas appris oublié

14 Carole a 87 perles. 56 perles sont rouges, les autres sont bleues. *Combien Carole a-t-elle de perles bleues ?*

Elle a perles bleues

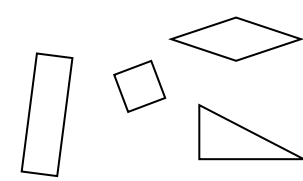
pas appris oublié

15 Madame Toussaint achète 4 paquets de lessive et 3 boîtes de 48 chocolats. *Combien de chocolats achète-t-elle ?*

Elle achète chocolat.

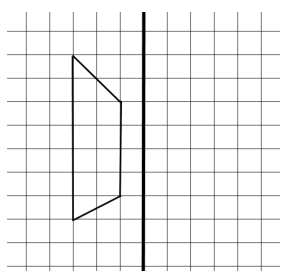
pas appris oublié

16 Colorie en jaune le carré, en bleu le rectangle, en rouge le triangle, en orange le losange.



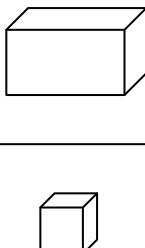
pas appris oublié

17 Trace la symétrie selon l'axe.



pas appris oublié

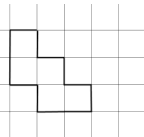
18 Donne le nom de ces figures:



.....

pas appris oublié


19 Reproduis la figure.



.....

pas appris oublié

20 Construis un carré de 3 cm de côté.



pas appris oublié

Cette **fiche de tests** vise à faire le point sur ce que tu sais déjà ou pas encore faire, **parmi les compétences de CE2**.
 Si tu n'as jamais appris à faire un exercice, coche la case . Si tu as appris à le faire, mais que tu as oublié, coche la case .

21 Construis un rectangle de 2 cm de largeur et 4 cm de longueur.

pas appris oublié

22 Complète les égalités suivantes:

37 cm = mm

490 mm = cm

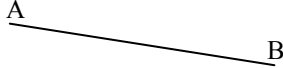
5 m et 16 cm = cm

315 mm = cm et mm

6 km et 5 m = m

pas appris oublié

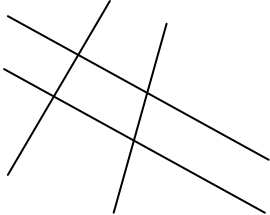
23 Mesure le segment suivant :



Segment [AB] = cm mm


pas appris oublié

24 Marque les angles droits:



pas appris oublié


25 Mesure le périmètre de cette figure:



P_{ABCD} =

pas appris oublié

26 Quelle heure est-il?



.....

pas appris oublié

27 Construis un cercle de centre O.

pas appris oublié

28 Martine est née en 1948. Quel âge a-t-elle ?

.....

pas appris oublié

29 Réponds aux questions

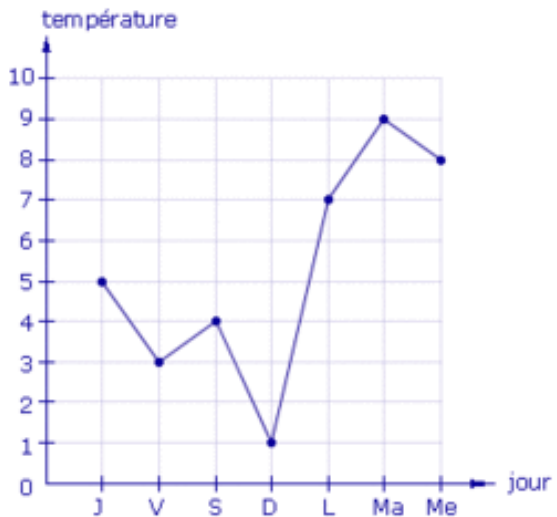
| Elèves | 1er saut | 2ème saut | 3ème saut |
|---------|----------|-----------|-----------|
| Justine | 220 cm | 210cm | 215cm |
| Elodie | 200cm | 205cm | 210cm |
| Hugo | 195 cm | 212cm | 208cm |
| Patrice | 230cm | 225cm | 240cm |

En saut en longueur, quelle a été le score de Hugo au 3e saut ?

En saut en longueur, qui a réalisé 210 cm à un de ses sauts ?

pas appris oublié

30 Réponds aux questions



Quelle température faisait-il vendredi ?

Quels sont les jours où il faisait plus de 4 ° ?

pas appris oublié