

Prénom :

Date : / /



EVALUATION DE MATHÉMATIQUES : L'HEURE

Savoir combien d'heures il y a dans une journée

A/AR/NA

Savoir combien de minutes il y a dans une heure

A/AR/NA

1/ Complète les phrases suivantes :

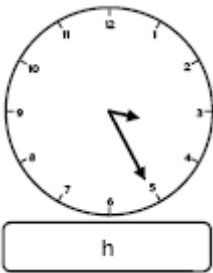
Dans une journée, il y a heures.

Dans une heure, il y a minutes.

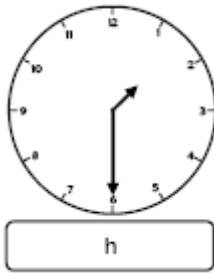
Lire l'heure avec les minutes (de 5 en 5)

A/AR/NA

2/ Complète les pendules suivantes :



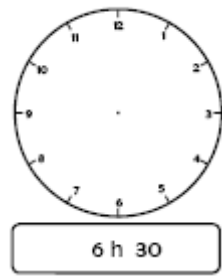
h



h



11 h 05

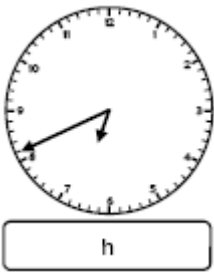


6 h 30

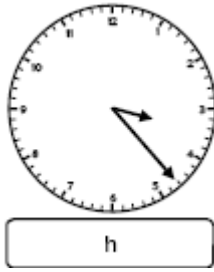
Lire l'heure avec les minutes (toutes les minutes)

A/AR/NA

3/ Complète les pendules suivantes :



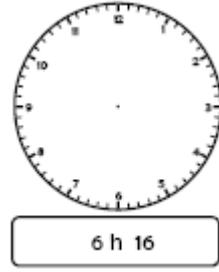
h



h



10 h 32




6 h 16

Associer l'heure du matin à l'heure du soir correspondante


A/AR/NA

4/ Ecris l'heure du soir qui correspond :


2 h 50



7 h 30



4 h 15



11 h 45

