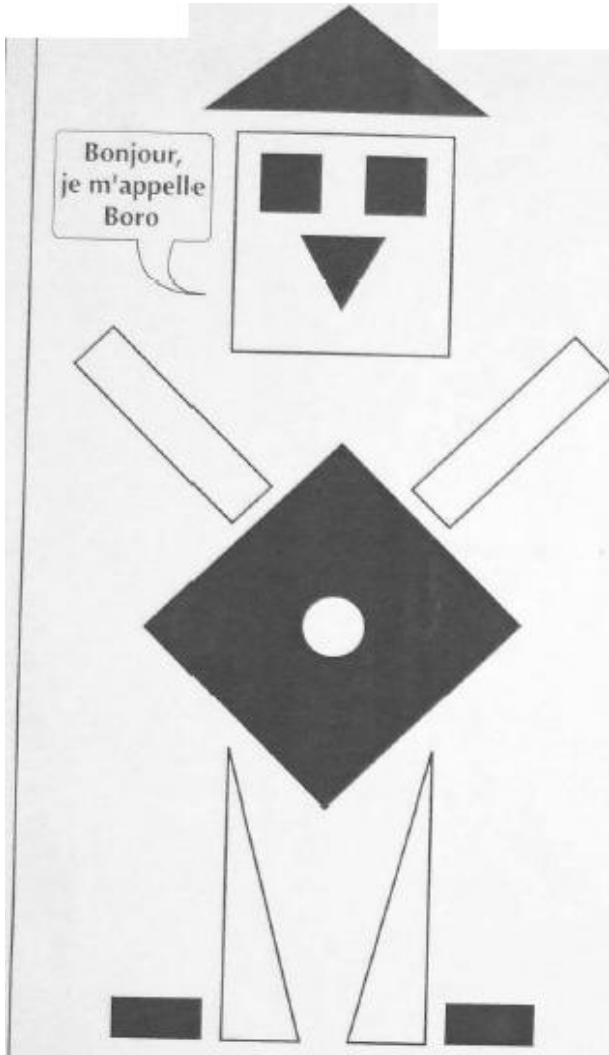






Prénoms :

Date : / /

1/ Voici Boro le robot. Avec ton équipier, compte le nombre de carrés, triangles, rectangles et cercles dont il est constitué puis remplis le tableau ci-dessous :







forme	nombre
	_____
	_____
	_____
	_____

Prénoms :

Date : / /

2/ Maintenant, vous allez essayer de fabriquer Nora, l'amie de Boro. Pour cela, regardez le nombre de figure qu'il vous faut puis découpez-les. Ensuite, collez-les sur la feuille afin de fabriquer Nora.

forme	nombre
	2
	4
	3
	1

