

## PARTIE 1 : NOMBRES ET CALCUL

### 1. Ecris en chiffres les nombres suivants :

- Cinquante huit .....
- quatre-vingt-six .....
- cent dix-neuf.....

### 2. Ecris les nombres en lettres

- 45 .....
- 81 .....
- 29 .....

### 3. Range les nombres du plus petit au plus grand

56 - 24 - 16 - 40 - 92

.....

### 4. Range les nombres du plus grand au plus petit

58 - 76 - 89 - 20 - 85

.....

### 5. Ecris le signe qui convient : > , <

87	97	53	73
23	32	56	87
34	19	89	50

### 6. Décompose le nombre suivant en prenant exemple sur le modèle :

$$72 = 70 + 2$$

53 = .....

87 = .....

94 = .....

### 7. On a commencé à compter de 5 en 5. Continue

8.

35	40	45						
----	----	----	--	--	--	--	--	--

### 8. Complète les phrases suivantes :

Le double de 3 est .....	La moitié de 20 est .....
Le double de 10 est .....	La moitié de 10 est .....



## PARTIE 2 : GEOMETRIE

tracer une clôture au poney :

1. Relie chaque figure au nom qui lui correspond :

un carré

un triangle

un rectangle


un cercle

•

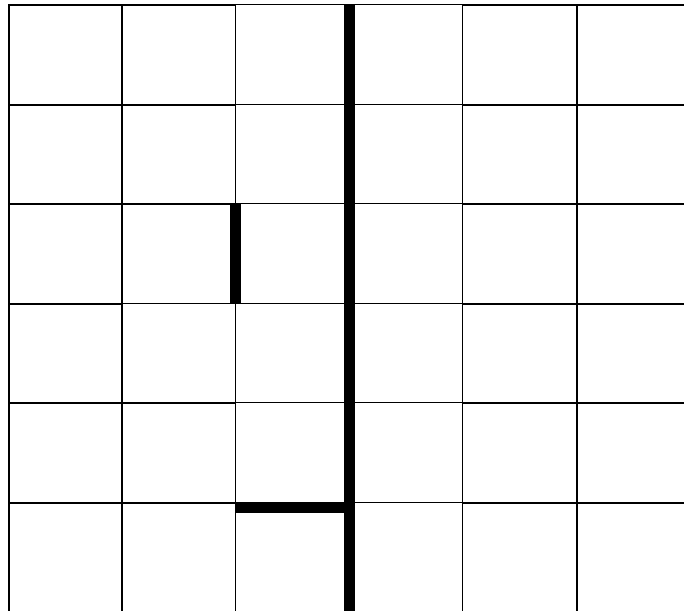
•

•

•

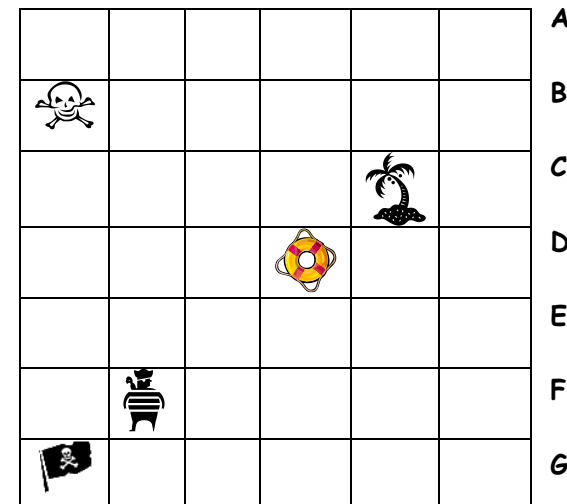


2. Complète la figure suivante par symétrie :



4. Trouve le code des formes du tableau

1    2    3    4    5    6



3. Relie les points soigneusement et précisément avec ta règle pour

PARTIE 3 : GRANDEURS ET MESURES

3. Dessine l'aiguille des heures en rouge et celle des minutes en bleu :

1. Entoure la bonne réponse :



un chien pèse :

20 g

20 kg



une trousse mesure

15 cm

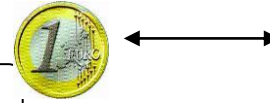
15 m

11 h 30

5 h 00

7 h 15

4. Dessine les pièces nécessaires pour obtenir 1€



5. Écris la somme d'argent en €



un cahier pèse :

250 g

250 kg



un arbre mesure :

19 m

19 cm



.....

6. Dessine les sommes demandées



20 €



04 €



2. Mesure les segments suivants et note leur longueur :

A \_\_\_\_\_

B \_\_\_\_\_

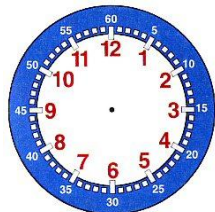
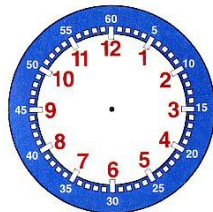
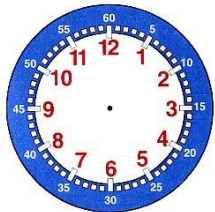
C \_\_\_\_\_

D \_\_\_\_\_

**PARTIE 4 : ORGANISATION ET GESTION DE DONNEES**



Lis le tableau suivant puis répond aux questions :



	<b>Age</b>	<b>Poids</b>	<b>Classe</b>
<b>Mérodie</b>	16 ans	35 kg	Groupe A Emilie
<b>Louis</b>	8 ans	15 kg	Groupe B Marie-Laure
<b>Délia</b>	12 ans	30 kg	Groupe B Marie H.

1/ Quel âge a Louis ?

.....

2/ Quel poids fait Mérodie ?

.....

3/ Dans quel groupe se trouve Délia ?

.....